


## DEFI n° 24 "LE TRIPLE SAULX "

Points Défis  
6 pts / balise

Total Points Défis  
54



Ce Défi de terrain se déroule en Essonne dans la Forêt Départementale du Rocher de Saulx (91), située dans la partie sud de Saulx les Chartreux.

Les possibilités de stationnement autour de cette forêt sont limitées. Nous vous proposons de partir du petit parking forestier à l'Est de la forêt. Coordonnées : 48,6740 N / 2,2695 E

Chaque balise trouvée rapporte 6 points ! Sur chaque balise figure un code que vous notez et que vous devrez reporter dans le formulaire réponse.





	DEPART PARKING A L'EST DE LA FORET Coordonnées : 48,6740 N / 2,2695 E
PP01	Triple Saulx ; voir vignette PP01
PP02	Voir vignette PP02, à l'altitude 128
PP03	Point de vue ; voir vignette PP03
PP04	Parcelle 34, butte entre le « e » et le « m » de « Départementale »
PP05	Sur la limite des parcelles 6-7 ; altitude 128
PP06	« Le Cul de Lampe » ; Petit trou d'eau au nord du « le »
PP07	« Le Cul de Lampe » ; dans la carrière ; voir vignette PP07
PP08	Parcelle 32 ; cote 157
PP09	Parcelle 28, partie Sud Est ; Dépression (ajout sur la carte, forme bistre)

PP01	PP02	PP03	PP04	PP05	PP06	PP07	PP08	PP09

Pour répondre cliquez ce lien [REPONDRE DEFI 24](#)

Attention vous n'avez droit qu'à une seule réponse

Envoyez vos questions ou vos commentaires sur [weraid28@gmail.com](mailto:weraid28@gmail.com)

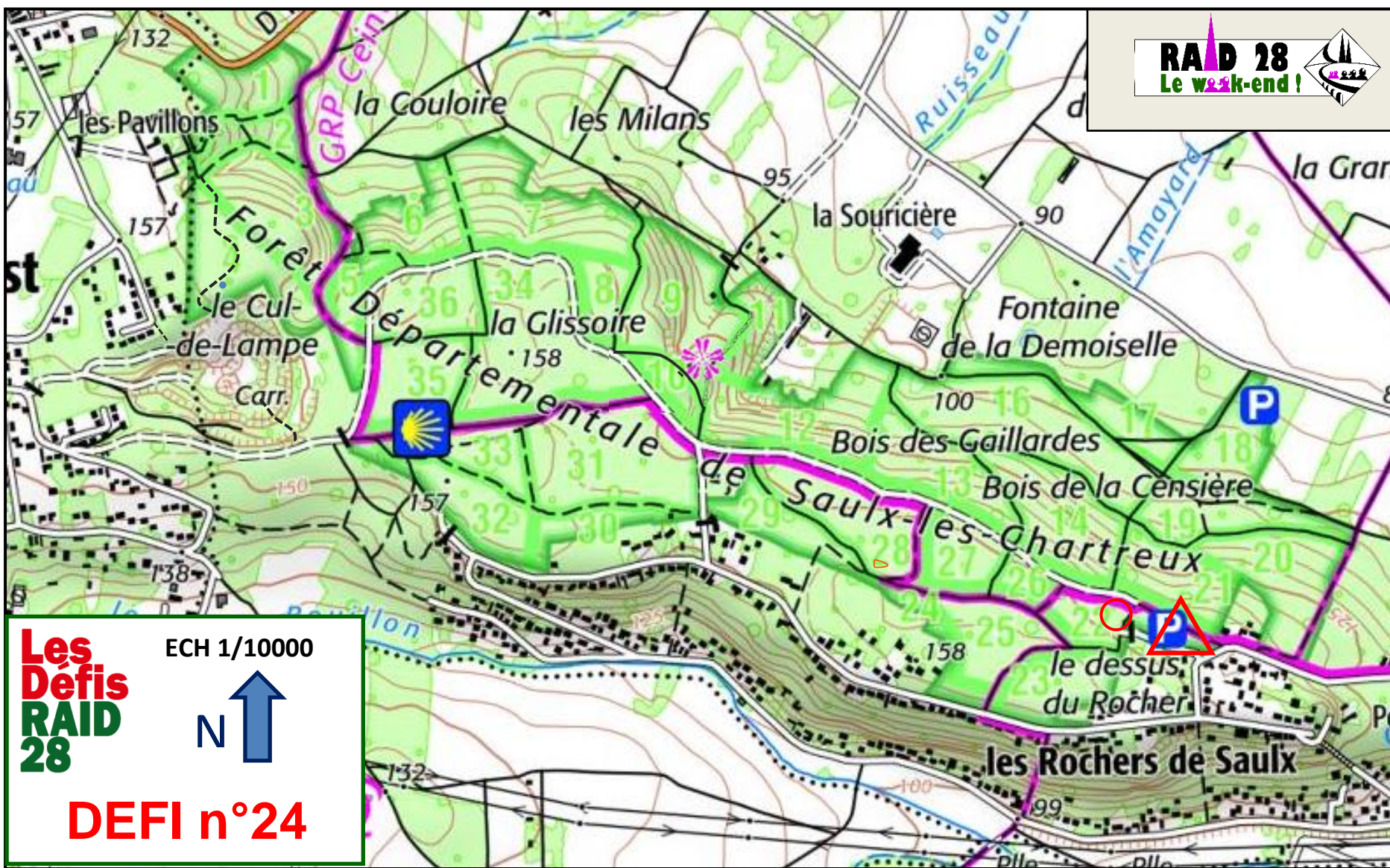
<b>PP01 : LE TRIPLE SAULX</b>			
<p>Rendez-vous dans la petite carrière de la parcelle 22 (cercle rouge sur la carte)          Trouvez le rocher A (en photo ci dessous)</p> 	<p>Du rocher A, 20m au nord vous trouverez un autre rocher (rocher B) portant une inscription en noir sur sa face ouest (2 lettres) ; Ces 2 lettres correspondent à un chiffre romain          Multipliez ce chiffre par 8. Le résultat est la distance à laquelle se trouve le rocher C au cap 350.</p>	<p>Sur le rocher C, une inscription sur sa face sud (2 lettres « EM » et 2 chiffres)          Retirez 4 au nombre de 2 chiffres. Le résultat est la distance à laquelle se trouve le rocher D au cap 13.          Sur le rocher D, une inscription sur sa face nord (2 lettres « RO » et 2 chiffres)</p>	<p>Ajoutez 28 au nombre de 2 chiffres ; le résultat est la distance à laquelle se trouve le rocher qui cache la balise PP01, au cap 148.</p>
<b>PP02</b>	<b>PP03</b>	<b>PP07</b>	
<p>A la cote 100 au nord de la parcelle 16, vous trouverez une borne d'un pipeline d'hydrocarbures (Photo)          Notez le nombre formé par les 2 derniers chiffres du numéro de la borne</p> 	<p>Multipliez ce nombre par 12. Le résultat est la distance à laquelle se trouve la balise PP02 (Photo) au cap 156 de la cote 100.          [2,8m à l'est d'un chemin]</p> 	<p>Au point de vue, asseyez-vous sur le banc.          Comptez le nombre P de poteaux de la barrière.          La balise PP03 est à 28m au cap (10xP) de là ou vous êtes assis.</p>	<p>En bas de la carrière de sable, vous trouverez une pierre bleue.</p>  <p>Suivez la flèche rouge jusqu'à la falaise. Là vous trouvez une écriture rouge T22. La balise PP07 se trouve à 65m au cap 57 de cette écriture.</p>

### BONUS 2009

Le Raid 28 a traversé cette forêt en 2009. Pour les nostalgiques, une épreuve bonus gratuite vous est proposée, ça ne vous rapporte rien, juste pour le plaisir.

En 2009, le Raid arrivait du bois de la Turaude, au sud de la Forêt de Saulx. A la cote 99, un PC. Rejoignez ce PC et remontez le PR partant vers le nord. L'hiver, le terrain est gras !! Imaginez.

**RAID 28**  
Le week-end !



**Les  
Défis  
RAID  
28**

ECH 1/10000



**DEFI n°24**